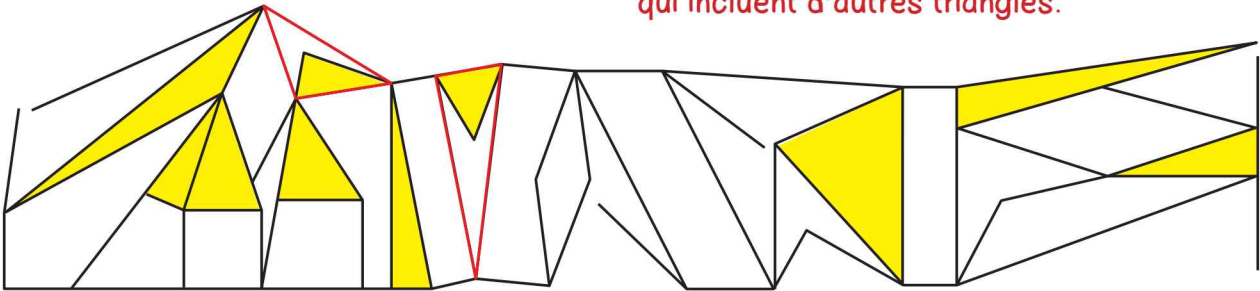


RECONNAÎTRE DES TRIANGLES

① **Colorie** les figures qui sont des triangles. *On peut aussi colorier les triangles qui incluent d'autres triangles.*



IDENTIFIER LES PROPRIÉTÉS D'UN TRIANGLE PARTICULIER

② **Observe** ces triangles et **coche** leurs propriétés dans le tableau.

Deux côtés égaux		X		X
Trois côtés égaux	X			
Un angle droit			X	X

NOMMER DES TRIANGLES PARTICULIERS

③ **Écris** le nom de ces triangles en utilisant les mots suivants : rectangle – quelconque – isocèle – équilatéral.



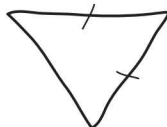
triangle

équilatéral



triangle

rectangle



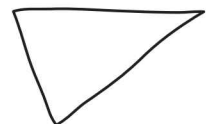
triangle

isocèle



triangle

isocèle rectangle



triangle

quelconque

CONSTRUIRE DES TRIANGLES

④ **Utilise** les points suivants pour tracer cinq triangles qui ne se croisent pas.

